

04

**ВСЕРОССИЙСКАЯ ОЛИМПИАДА ШКОЛЬНИКОВ
ПО ОБЖ 2021 г. ШКОЛЬНЫЙ ЭТАП**

7–8 классы

Тестовые задания

**Определите один правильный ответ
За правильный ответ начисляется 2 балла**

1 **Изображённый знак в вагоне метро означает**

- 1) «не прислоняться к дверям»
- + 2) «не входить в двери»
- 3) «не останавливаться у дверей»
- 4) «не подходить к дверям»



2 **Минимальная безопасная толщина льда для сооружения катка должна составлять не менее**

- 1) 7 см
- + 2) 30 см
- 3) 9 см
- 4) 12 см

3 **Отлогая сторона муравейника указывает направление на**

- 1) восток
- 2) запад
- + 3) север
- 4) юг

4 **День спасателя Российской Федерации отмечается**

- 1) 27 декабря
- 2) 4 октября
- + 3) 30 апреля
- 4) 1 марта

5 **Дезинфекция средств индивидуальной защиты – это**

- 1) обезвреживание (нейтрализация, разбавление) или удаление опасных химических веществ со средств индивидуальной защиты
- 2) удаление (снижение) радиоактивного загрязнения со средств индивидуальной защиты и их комплектующих изделий
- + 3) удаление (снижение) бактериального загрязнения со средств индивидуальной защиты и их комплектующих изделий
- 4) удаление членистоногих со средств индивидуальной защиты и их комплектующих изделий

Определите два правильных ответа







За каждый правильный ответ начисляется 2 балла

- 1 **Какой сигнальный цвет и какую геометрическую форму имеют предупреждающие знаки безопасности?**
- 1) синий
 - 2) треугольник
 - 3) квадрат
 - 4) жёлтый
 - 5) круг с поперечной полосой
- 2 **Для тушения небольшого бытового возгорания можно воспользоваться**
- 1) мукой
 - 2) содой
 - 3) плотной шерстяной тканью
 - 4) какао-порошком
 - 5) плотной синтетической тканью
- 3 **Какие растения являются ядовитыми?**
- 1) ландыш
 - 2) актинидия острая
 - 3) анис
 - 4) бенинказа щетинисто-волосистая
 - 5) болиголов крапчатый
- 4 **К опасным гидрологическим явлениям и процессам относятся**
- 1) сель
 - 2) оползень
 - 3) лава
 - 4) землетрясение
 - 5) цунами
- 5 **К характеристикам, по которым оценивается землетрясение, относят**
- 1) магнитуду
 - 2) продолжительность
 - 3) интенсивность
 - 4) распространённость
 - 5) частоту
- 6 **К средствам индивидуальной защиты кожи относятся**
- 1) защитное дерматологическое средство
 - 2) камера защитная детская
 - 3) изолирующий противогаз
 - 4) щиток защитный лицевой
 - 5) противошумные наушники

Теоретические задания

Задание 1

Установите соответствие между изображением дорожного знака и его наименованием.

| | |
|---|---|
|  | «Стоянка велосипедов запрещена» |
|  | «Стоянка запрещена» |
|  | «Велосипедная дорожка или полоса» |
|  | «Движение на велосипедах запрещено» |
|  | «Движение запрещено» |
|  | «Конец велосипедной дорожки или полосы» |
| | «Въезд запрещён» |
| | «Место отдыха» |
| | «Кемпинг» |
| | «Остановка запрещена» |

Handwritten blue arrows and red marks indicate the following matches:
- Sign 1 (bicycle) to «Велосипедная дорожка или полоса» (marked with a red 'x')
- Sign 2 (white circle) to «Движение на велосипедах запрещено» (marked with a red 'x')
- Sign 3 (bicycle on blue) to «Въезд запрещён» (marked with a red '+')
- Sign 4 (white circle) to «Движение запрещено» (marked with a red '+')
- Sign 5 (white bar) to «Место отдыха» (marked with a red '+')
- Sign 6 (tree and tent) to «Кемпинг» (marked with a red '+')

Б. Установите соответствие между выбранными цветовыми обозначениями уровней террористической опасности и условиями их установления.

| | |
|--------------|---|
| «фиолетовый» | |
| «красный» | |
| «жёлтый» | |
| «зелёный» | |
| «оранжевый» | |
| «синий» | |
| | Повышенный – при наличии требующей подтверждения информации о реальной возможности совершения террористического акта |
| | Высокий – при наличии подтверждённой информации о реальной возможности совершения террористического акта |
| | Критический – при наличии информации о совершённом террористическом акте либо о совершении действий, создающих непосредственную угрозу террористического акта |